

HP 用学力確認テスト(小4)(実施日・)

学 年	ク ラ ス	氏 名	点
年			

①

_____点

(1) 29000000000000の読み方を漢字で書きなさい。

答え()

(2) 十五兆六百万を数字で書きなさい。

答え()

(3) 次の計算をしなさい。ただし、④は漢字を使わずに答えなさい。

① 7億÷10

()

② 22兆×10

()

③ 83兆+55兆

()

④ 300×6000

()

②

_____点

(1) みかんが415こあります。これを15こずつ箱につめます。15こ入りの箱は何箱できて、みかんは何こあまりますか。

式()

答え()

(2) ある数を17でわったら、商は46であまりは9でした。

① ある数はいくつですか。

式()

答え()

② ①の数を14でわると、答えはどうなりますか。

式()

答え()

3

_____点

(1) 次の問いに答えなさい。

① 1回転したときの角の大きさは、何直角ですか。

答え ()

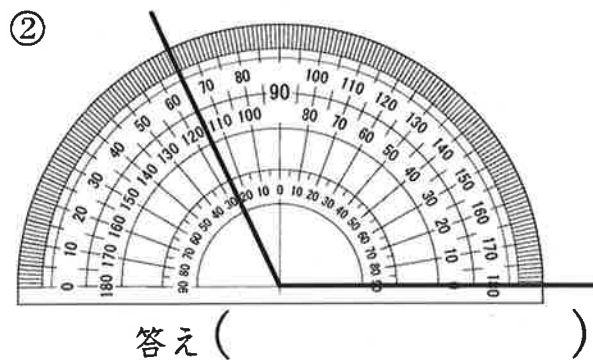
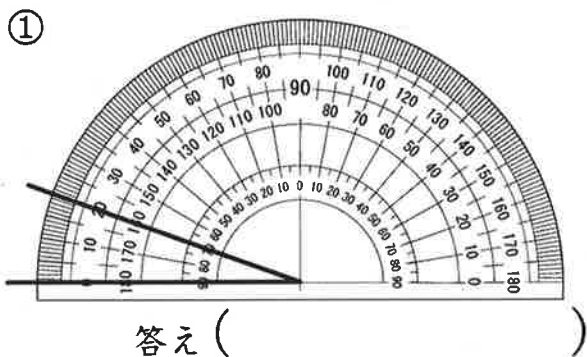
② 2直角は、何度ですか。

答え ()

③ 270度は、何直角ですか。

答え ()


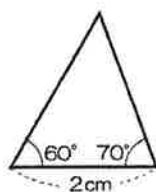
(2) 次の角度は何度ですか。分度器ぶんどきのめもりをよんで答えなさい。



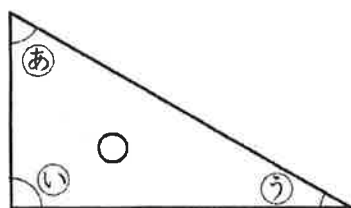
4

_____点

(1) 次の図のような三角形をかきなさい。



(2) 次の三角じょうぎのあ、い、うの角度は何度ですか。



あ ()

い ()

う ()

⑤

_____点

(1) 次の計算をなさい。

① 0.7×4

()

② 0.09×8

()

(2) 次の計算をなさい。

①
$$\begin{array}{r} 4.6 \\ \times 7 \\ \hline \end{array}$$

②
$$\begin{array}{r} 5.6 \\ \times 80 \\ \hline \end{array}$$

③
$$\begin{array}{r} 2.72 \\ \times 34 \\ \hline \end{array}$$